

1) Aşağıdaki cümlelerden hangisinde “zayıf” kelimesi farklı bir anlamda kullanılmıştır?

- A) Maçta zayıf rakibimizi kolay yendik.
- B) Hasan’ın zayıf yönlerini biliyorum.
- C) Eğitimi zayıf olan ülkeler gelişemez.
- D) Elif zayıf olduğu için elbise çok bol oldu.

2) Aşağıdaki seçeneklerden hangisinde "-ki" eki yanlış yazılmıştır?

- A) Benimki bugün çok yorulmuş.
- B) Baktımki olmuyor, bende bıraktım.
- C) Bendeki bu zeka kimde var?
- D) Ondaki paraları sen al.

3) Aşağıdaki tümcelerin hangisinde “ uzay “ sözcüğünün eş anlamlısı kullanılmıştır?

- A) Ahali, olan biteni görünce çok şaşırmıştı.
- B) Yıldızlar bu gece çok parlak.
- C) Güneş sandığımdan daha büyükmüş.
- D) Feza, sonu olmayan bir boşluktur.

4) El üstünde tutmak “ deyimi hangi anlamda kullanılır?

- A) Oyun oynatmak
- B) Boş yere uğraşmak
- C) Hiç sevmemek
- D) Çok değer vermek

5) Avucunu yalamak “ deyimi hangi anlamda kullanılır?

- A) Çok temiz olmak
- B) Umdüğünü bulamamak
- C) Çok acıkmak
- D) Canı çok sıkılmak

I. Pakize Teyze çok sıcak bir insan.

II. Yeni saç modeline bayıldım.

III. Evin içinde keskin bir koku var.

IV. Dayım köyde çalışmış tüm gün.

6) İçerisinde mecaz anlamlı kelime kullanılan tümceler hangileridir?

- A) I – II – III
- B) II – III – IV
- C) I - II
- D) I – II - IV

Çalışmak ile ilgili bir atasözü bulmam gerekli. Yardımcı olur musunuz?

7) Ayşe, aşağıdaki atasözlerinden hangisini seçmelidir?

- A) Keskin sirke küpüne zarar.
- B) Körle yatan şaşı kalkar.
- C) İğneyi kendine, çuvaldızı başkasına batır.
- D) Emek olmadan yemek olmaz.

8) Hangisi terim anlamlı bir kelimedir?

- A) makas
- B) kütle
- C) pırasa
- D) araba



Acaba abim neden kıpkırmızı oldu.



Kapranlık bir yer orası.



Hastaneden sapasağlam çıktım.



Yaşasın! Sınavdan yüz almışım.

9) Hangi çocuğun tümcesinde , pekiştirme yapılan bir sözcük yoktur



() Arkadaşlar , yarın kütüphaneye gitmek isteyen var mı ()

Oya ()

() Annemden izin alırsam ben gelmek istiyorum.

10) Yukarıdaki cümlede yay ayraçlarla belirtilen yerlere hangi noktalama işaretleri gelmelidir ?

- A) (-) , (:) , (:) , (-)
- B) (-) , (?) , (.) , (-)
- C) (-) , (?) , (:) , (-)
- D) (“) , (”) , (:) , (-)

Aysel Hanım () bahçedeki çocuklara seslendi ()

() Çabuk sınıflarınıza gidin ()

11) Yukarıdaki cümlede yay ayraçlarla belirtilen yerlere hangi noktalama işaretleri gelmelidir ?

- A) (,) , (:) , (-) , (.)
- B) (,) , (:) , (-) , (!)
- C) (,) , (,) , (-) , (?)
- D) (,) , (;) , (-) , (!)

12) Aşağıdaki cümlelerden hangisinin sonuna soru işareti getirilemez?

- A) Akşamki gürültünün nedeni neymiş()
- B) Ödevlerini zamanında yapıyor musun()
- C) Dün okula gelip seni soran kimmiş()
- D) Neşet’in neden bu kadar sorun çıkardığını anlamıyorum()

13) Aşağıdaki bilgilerden hangisi ünlem işareti (!) için yanlıştır?

- A) Seslenme sözlerinden sonra kullanılır.
- B) Sevinç , korku , acıma duyguları anla-

tan cümlelerin sonuna konur.

C) Cümle içinde eş görevli kelimelerin arasında kullanılır.

D) Alay, küçümseme anlamı kazandırılmak istenen sözden sonra kullanılır.

Dün Hasan benimle konuştu () Yarın kütüphaneye gideceğini () bir konuda araştırma yapacağını söyledi () Acaba hangi konuda araştırma yapacak ()

14) Yukarıdaki cümlede yay ayraçlarla belirtilen yerlere hangi noktalama işaretleri gelmelidir ?

A) (:) , (.) , (.) , (?)

B) (.) , (:) , (.) , (!)

C) (.) , (,) , (.) , (?)

D) (.) , (,) , (:) , (?)

Bayan güvenlik görevlisine hangi kata çıkacağını sordu.

15) Yukarıdaki cümlede hangi kelimedenden sonra virgül konursa cümlelerin anlamı değişir?

A) bayan B) görevlisine C) kata D) güvenlik

16) Öğretmenim işleri zamanında yapmak ile ilgili bir atasözü söylememi istedi.

Yukarıdaki ifadeye göre Selin aşağıdaki atasözlerinden hangisini söyleyebilir?

A) Sakla samanı gelir zamanı

B) Tatlı dil yılanı deliğinden çıkarır

C) Yalnız taş duvar olmaz

D) Demir tavında dövülür

Zamanında görevini yapmadığı.....

17) Yukarıdaki cümlelerin sebep sonuç cümlesi olabilmesi için, aşağıdaki seçeneklerden hangisi ile tamamlanması uygun olur?

A)bu yüzden çok mutlu oldu.

B)için maaşına zam yapıldı.

C)için zor durumda kaldı.

D)bu nedenle patronundan övgüler aldı.

18) Aşağıdaki tümcelerin hangisinde pekiştirme yapılan bir sözcük kullanılmamıştır?

A) Olayları düzeltiyim derken büsbütün daha da kötü hale getirdim.

B) Dört gündür yağan kar, bembeyaz bir örtü oluşturdu.

C) Buzdolaplarında kampanya varmış, fiyatları iyice düşmüş.

D) Yaşlı adam seksen beş yaşında olmasına rağmen sapasağlam ayakta idi.

19) Aşağıda verilen tümcelerin hangisinde , “ de “ ekinin yazımı ile ilgili bir hata yapılmıştır?

A) Bu durumdan Melisa’da çok rahatsız.

B) Evet sen de bizimle geleceksin.

C) Yarın da uyanamazsam işten atılırım.

D) Top oynamaya Mert de gelecek mi?

Ahmet Beyin arabası geldi. Erken değil mi?

Biz 15 Kasım’da bekliyorduk. Ayrıca THY nin uçağıyla gelecekti. Arabayla gelmiş.

20) Kesme işareti konulması gereken bazı yerlere, kesme işareti konulmamıştır. Bu yazıda , bu şekilde kaç tane hata yapılmıştır?

A) 1

B) 2

C) 3

D) 4

I. Evimizin minik yaramazı, kedimiz minnoş.

II. Dumlupınar ortaokuluna gideceğim.

III. Kartal Devlet Hastanesi’ne nasıl gidilir?

IV. Fatma Hanım geldi.

21) Büyük harflerin doğru kullanıldığı tümceler hangileridir?

A) I ve II

B) III ve IV

C) I ve IV

D) II ve III

Bursa’lımısın küçük kız . Nereden geldin.

22) Yukarıdaki tümcede noktalama ve yazım yanlışları vardır. Bu tümcenin doğru şekilde yazılışı aşağıdakilerden hangisidir?

A) Bursa’lı mısın küçük kız ? Nereden geldin?

B) Bursa’lımısın küçük kız? Nereden geldin?

C) Bursalı mısın küçük kız ? Nereden geldin.

D) Bursalı mısın küçük kız ? Nereden geldin?

23) Aşağıdaki cümlelerden hangisi öznel bir nitelik taşır?

A) Ülkemizde işsizliğin nedenleri araştırılıyor.

B) İnsanlar için para amaç değil, araç olmalıdır.

C) İşsizlik oranı arttıkça maddi sıkıntıların da arttığı gözleniyor.

D) Ülke nüfusunun yüzde onu, yoksulluk sınırındadır.

24) Aşağıdaki cümlelerin hangisinde yazım yanlışları vardır?

A) Dünkü maçı Galatasaray kazanmış.

B) Komşumuz Ayşe Teyze’ye ekmek aldım.

C) Suna’nın balığı süslü ölmüş.

D) Dayım Almanya’dan hediye göndermiş.

25) Aşağıdakilerden hangisi sözlük sırasına göre sıralanmamıştır?

A) merdiven – mor – mutlu – mübarek

B) fakir – fikir – feda – füze

C) cazip – cevap – cilve – Cuma

D) takı – tel – telefon – teyp

1) Geçmiş zamanda yaşamış canlıların yer kabuğu kayaçları içindeki kalıntıları ne denir?

- A. kum B. fosil C. maden D. çakıl

2) Aşağıdakilerden hangisi kuvvetin etkisi kaldırıldığında ilk haline dönemez?

- A. Sünger B. Lastik
C. Oyun hamuru D. Teneke kutu



3) Şekildeki işçi eğik zeminde hızlanma hareketi yapan el arabasını yavaşlatmak ya da durdurmak için ne yapmalıdır?

- A. Koşmalıdır.
B. Arabanın önüne geçmelidir.
C. İtme hareketi yapmalıdır.
D. Arabayı kendine doğru çekmelidir.

4) Aşağıdakilerden hangisi alkolün zararlarından değildir?

- A) Alkol kullanan kendini mutlu hisseder.
B) Alkol refleksleri yavaşlatır
C) Alkol beyni, kasları ve damarları olumsuz etkiler.
D) Alkol kullanan kişi, davranış ve duygularını kontrol etmekte zorlanır.



1. Hızlanır
2. Durur
3. Yavaşlar
4. Şekil değişir

5) Yukarıdaki şekildeki cisim ok yönünde hareket etmektedir. Cisme arkasından bir itme kuvveti uygulandığında aşağıdakilerden hangisi ya da hangileri gerçekleşir?

- A. Yalnız 1 B. Yalnız 2 C. 1 ve 3 D. 2 ve 4

6) İp çekme oyununda iki taraf da birbirlerini yenemiyor ise bunun sebebi ne olabilir?

- A) Yerin kaygan olması.
B) Uyguladıkları kuvvetin eşit olması.
C) Bir tarafın kuvvetinin az olması.
D) Bir tarafın kuvvetinin çok olması.

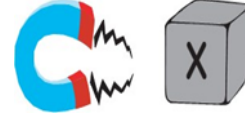
7) Suya düşmüş bu maddelerden hangisini mıknatıs ile çıkartabiliriz?

- A) Tahta kaşık B) Altın bilezik C) Çivi D) Taş



8) Murtaza, hareket halindeki oyuncak arabaya hareketi yönünde kuvvet uyguluyor. Arabanın hareketinde aşağıdaki durumlardan hangisi gözlenir?

- A) Araba hızlanır. B) Araba yön değiştirir.
C) Araba durur. D) Araba yavaşlar.



9) Yandaki "X" maddesi mıknatıs tarafından çekildiğine göre "X" maddesi aşağıdakilerden hangisi olamaz?

- A) Demir tabak B) Nikel tabak
C) Porselen tabak D) Kobalt tabak

I-Mıknatıs tarafından çekilmez.


II-Suda batır.

III-Suyu emmez.

10) Yukarıda özellikleri verilen madde aşağıdakilerden hangisidir?

- A) taş B) kağıt C)tahta D) demir

11) Mıknatısların kutuplarını, altındaki açıklamadan yararlanarak noktalı yerlere yazalım.



Mıknatıslar birbirini itiyor.

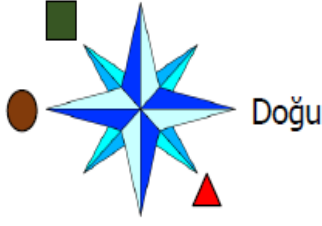


12) Yukarıdaki kişi elindeki cisim ile bazı maddeleri çekebilmektedir. Buna göre aşağıdaki şıklardan hangisinde, bu cisim ile çekilebilen maddeler doğru olarak sıralanmıştır.

- A) demir – bakır – nikel – tahta
B) çelik – kağıt – gümüş – taş
C) çinko – demir – porselen – nikel
D) kobalt – çelik – nikel – demir

13) Aşağıdakilerden hangisi mıknatısın günlük hayatımızda kullanım alanlarına örnek verilemez?

- A) Hoparlör yapımında kullanılır.
B) Buzdolabı kapağında kullanılır.
C) Cam temizleyici aletlerde kullanılır.
D) Plastik tabaklarda kullanılır.



1) Yukarıda verilen şemada şekiller hangi yönleri göstermektedir?



- | | | |
|--------------|-------|-----------|
| A) Kuzeydoğu | Güney | Batı |
| B) Kuzeybatı | Batı | Güneydoğu |
| C) Güneybatı | Kuzey | Güneydoğu |
| D) Kuzeybatı | Batı | Güneybatı |

2) Aşağıdakilerden hangisi krokinin özelliği değildir?

- A) Kuşbakışı ve kabataslak çizilir.
B) Uygun semboller kullanılır.
C) Cetvel kullanılarak çizilir.
D) Adres bulmak için kullanılır.

3) Aşağıdakilerden hangisi doğal unsur değildir?

- A) Orman B) Şelale C) Dağ D) Park

4) Aşağıdakilerden hangisi deprem sırasında alınacak önlemlerden biri değildir?

- A) Devrilebilecek eşyalardan uzak durmak
B) Acil durum planı hazırlamak.
C) Çömel, kapan, tutun hareketini yapmak.
D) Sakince depremin bitmesini beklemek.

- I. Tuz Gölü II. Erciyes Dağı
III. Bafra Ovası IV. Nevşehir şehir merkezi

5) Yukarıda verilenlerden hangisine Türkiye Fiziki Haritasında ulaşamaz?

- A) I B) II C) III D) IV

- I. Eğimli arazi II. Seyrek bitki örtüsü III. Aşırı yağış

6) Yukarıda verilenler aşağıdaki doğal afetlerden hangisinin sebebi olamaz?

- A) Deprem B) Sel C) Çığ D) Erozyon

7) Aşağıdakilerden hangisi deprem sonrasında yapılması gerekenlerden değildir?

- A) Zorunlu olmadıkça telefonları meşgul etmemek.
B) Arama kurtarma ekiplerine yardım etmek.
C) Evimize girmek için acele etmemek.
D) Ağaç veya duvar dibinde beklemek.

8) Ormanda yolunu kaybeden bir kişi ağaçlardaki yosunlarına bakarak hangi yönü bulabilir?

- A) Kuzey B) Batı C) Doğu D) Güney

9) Fiziki haritalarda denizler hangi renk ile gösterilir?

- A) Yeşil B) Sarı C) Mavi D) Kahverengi

10) Fiziki haritalarda dağlar hangi renk ile gösterilir?

- A) Yeşil B) Sarı C) Mavi D) Kahverengi

11) Çığ felaketi aşağıda verilen alanların hangisinde görülmez?

- A) Ovalarda B) Dağlık bölgelerde
C) Yoğun kar yağışlı bölgelerde D) Eğimli arazilerde

12) Aşağıdakilerden hangisi beşeri unsurlardandır?

- A) Dere B) Göl C) Köprü D) Deniz

13) Aşağıdakilerden hangisi bir hava olayı değildir?

- A) Sis B) Heyelan C) Kar D) Rüzgar

14) Aşağıda verilen bilgilerden hangisi yanlıştır?

- A) Deprem bir doğal afettir.
B) Depreme karşı evlerimiz sağlam zemine yapmak etkili bir yöntemdir.
C) Çok katlı büyük evler depreme karşı bizi korur.
D) Deprem öncesi tatbikat yapmak bize depremde zaman kazandırır.

15) Sabahleyin sağ kolumuz güneşe gelecek şekilde kolumuzu açtığımızda arkamız hangi yönü gösterir?

- A) Doğu B) Batı C) Kuzey D) Güney

16) Osmanlı Devleti 30 Ekim 1918'de imzaladığı hangi antlaşma ile bağımsızlığını ve kendini savunma imkanlarını kaybetmiştir?

- A) Gümrü Barış Antlaşması
B) Ankara Antlaşması
C) Mudanya Ateşkes Antlaşması
D) Mondros Ateşkes Antlaşması



1882'de İstanbul'da doğdu. 1905'te Harp Akademisini bitirerek Manastır'a atandı. 1. Dünya Savaşı'nda çeşitli cephelerde başarıyla görev yaptıktan sonra Kurtuluş Savaşı'nda **Doğu Cephesi** komutanlığına getirildi.

17) Yukarıda bahsedilen kişi aşağıdakilerden hangisidir?

- A) Kazım Karabekir B) Sütçü İmam
C) Ali Saip Bey D) Yörük Ali Efe

Sakarya Zaferi'nin ardından Güney Anadolu topraklarında tutunamayacaklarını anladılar. 20 Ekim 1921'de TBMM hükümeti ile Ankara Antlaşması'nı imzalayıp işgal altında tuttukları Adana ve Antep'ten çekildiler.

18) Yukarıdaki metinde bahsedilen millet aşağıdakilerden hangisidir?

- A) İngilizler B) Fransızlar
C) İtalyanlar D) Ermeniler

19) Top mermileri ıslanmasın ve kızı donmasın diye kendini feda ederek şehit olan kahraman Türk kadını kimdir?

- A) Rahmiye Hanım B) Şerife Bacı
C) Fatma Bacı D) Nene Hatun

..... Zaferi yurdun her yerinde büyük coşkuyla kutlandı. TBMM, kazandığı bu zafer nedeniyle Mustafa Kemal Paşa'ya "Mareşal" rütbesini ve "Gazi" unvanını verdi.

20) Yukarıdaki noktalı yere aşağıdakilerden hangisi getirilmelidir?

- A) 1. İnönü B) Çanakkale C) Dumlupınar D) Sakarya

21) Aşağıdaki şehirlerden hangisi, düşmana karşı gösterdikleri cesaret ve yiğitlik nedeniyle TBMM tarafından unvan verilen şehirlerden değildir?

- A) Antep B) Urfa C) Maraş D) Adana

22) Arife ve Burak ikiz kardeşlerdir. Buna göre bu iki kardeşin nüfus cüzdanlarındaki hangi özellik farklıdır?

- A) Doğum Tarihleri B) Doğum Yerleri
C) Kimlik Numaraları D) Baba Adları

23) Aşağıdaki davranışlardan hangisinin kendini başkalarının yerine koyma duygusunun bir sonucu olduğu söylenemez?

- A) Bülent'in kalemini evde unutan Ensar'a kalemlerinden birini vermesi.
B) Emre'nin sofrayı kurmada anne babasına yardım etmesi.
C) Elif'in boş zamanlarını resim yaparak
D) Yiğit'in okul kantininde sıraya girmesi.

24) Aşağıdaki davranışlardan hangisinin empatiyi en doğru şekilde tanımladığı söylenebilir?

- A) Karşısındaki kişinin dostluğunu kazanmaya çalışma
B) Karşısındaki kişiye onun kendisine davrandığı gibi davranma
C) Karşısındaki kişinin neler hissedebileceğini tahmin edip ona göre davranma
D) Karşısındaki kişinin hatasını yüzüne vurmama

25) Ayla'nın halk oyunları ekibine, Emir'in ise okçuluk spor kulübüne seçilmek istemesi ile ilgili aşağıdaki ifadelerden hangisini söylemek doğru olur?

- A) Matematik dersindeki başarıları
B) İlgi alanlarının farklı olması
C) Ailelerinin istekleri
D) Arkadaş çevrelerinin istekleri

26) Esmâ'nın dedesi çocukluğunda oynadığı oyunları anlatıyordu. Esmâ'nın dedesi aşağıda verilen oyunlardan hangisini çocukluğunda oynamamıştır?

- A) Çelik çomak B) Topaç
C) Bilgisayar oyunları D) Körebe

27) Ailemizin tarihini araştırırken aşağıdakilerden hangisini kullanmayız?

- A) Sözlü tarih B) Aile albümü
C) Kütüphane D) Eski eşyalar

28) Aşağıdaki olayların kronolojik sıralaması aşağıdakilerden hangisinde doğru olarak verilmiştir?

- I. Sivas Kongresi
II. Atatürk'ün Samsun'a çıkması
III. Cumhuriyetin ilanı
IV. Başkomutanlık Meydan Savaşı

- A) I – IV – II – III B) IV – III – II – I
C) III – I – II – IV D) II – I – IV – III


29) Aşağıdaki doğal ve beşeri unsurlar ile ilgili eşleştirmelerden hangisi yanlıştır?

- A) Peribacaları – Doğal Unsur
B) Boğaz Köprüsü - Beşeri Unsur
C) Dolmabahçe Sarayı – Doğal Unsur
D) Kız Kulesi – Beşeri Unsur

30) Hava olayları, aynı bölgede yaşayan hangi meslek grubunu daha çok etkiler?

- A) denizci B) doktor C) terzi D) öğretmen

27 OCAK PERŞEMBE GÜNÜ EV ÖDEVİ



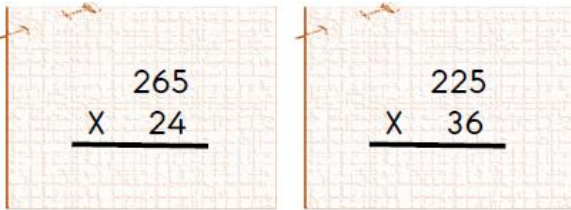
1) Yukarıdaki doğal sayılarda , bazı basamaklar işaret ile gösterilmiştir. İşaret ile gösterilen basamaklardaki sayıların, basamak değerlerinin toplamı kaçtır?

Çözüm:



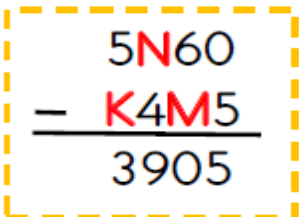
2) Yukarıdaki uçaklarda, beş ve altı basamaklı sayılar yazılıdır. Bu sayıları küçükten büyüğe doğru sıralarsak, sıralama nasıl olur?

Çözüm :



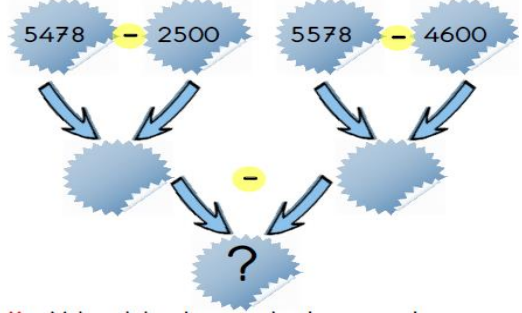
3) Yukarıdaki çarpma işlemlerinin sonuçlarının, farkı kaçtır?

Çözüm :



4) Yukarıdaki çıkarma işleminin sonucunu bulalım. $K + M + N = ?$ İşleminin sonucu kaç olur?

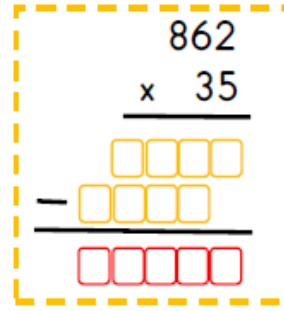
Çözüm :



5) Yukarıdaki çıkarma işlemlerini sırayla çözersek , “soru işareti “ olan bölümü kaç buluruz?

Çözüm:

6) Aşağıdaki çarpma işleminin sonucunu bulalım.



7) Bir çuvalın içerisinde 574 tane cevizim var. Cevizlerin

$\frac{3}{7}$ 'ü çürüdü. $\frac{2}{7}$ 'sini de yedim. Geriye kaç tane cevizim kalmıştır?

Çözüm :

8) “Beş yüz beş bin beş” sayısının rakamla yazılışı aşağıdakilerden hangisidir?

A) 50505 B) 505055 C) 505505 D) 505005




9) Sayı doğrusunda, belirtilen bölüme denk gelen kesrin, bileşik kesir olarak yazılışı aşağıdakilerden hangisidir?

A) $1 \frac{1}{3}$

B) $2 \frac{1}{3}$

C) $\frac{7}{4}$

D) $\frac{7}{3}$



10) Yukarıdaki sayının binler ve birler bölüğünü yer değiştirirsek, oluşan yeni sayı eski sayıdan kaç fazla olur?

- A) 506 893 B) 606 393 C) 842 235 D) 245 868



11) Yukarıdaki rakamlar ile yazılabilecek dört basamaklı en küçük çift sayıyı bulunuz. Bulduğunuz sayıyı 18'e bölerseniz, sonuç kaç olur?

Çözüm:

$$\begin{array}{r} 9 \ 5 \ 8 \ 4 \\ - \ 5 \ \boxed{4} \ 7 \\ \hline 3 \ 6 \ \boxed{7} \end{array}$$

12) Çıkarma işlemindeki verilmeyenleri bulunuz.

Çözüm:

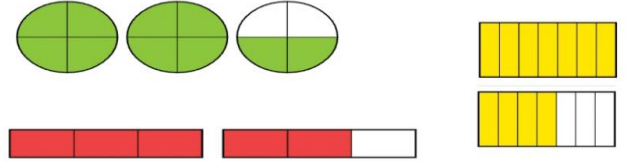
13) Hayri sağlıklı yaşamak için spor yapıyor. Her gün parkta koşuyor. Birinci gün 2015 metre koşuyor. İkinci gün ise ilk gün koştuğu mesafeden 200 metre daha fazla koşuyor. Üçüncü gün ise , ilk iki gün koştuğu mesafenin toplamı kadar koşuyor. Hayri üç gün boyunca toplam kaç metre koşmuştur?

Çözüm :

14) Sinemadaki filmi pazartesi günü 1635 kişi, salı günü 2097 kişi izlemiş. Çarşamba günü ise salı gününden 248 kişi fazla izlemiş.

Çözüm:

15)



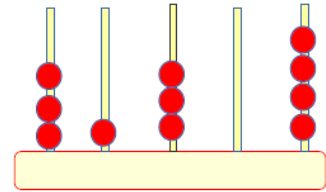
Şıklarda verilenlerden hangisi, yukarıdaki kesirlerden birinin okunuşu olamaz?

- A) İki tam iki bölü dört
B) On bir bölü yedi
C) Bir tam iki bölü üç
D) Sekiz bölü beş

16)

- *Ben bir bileşik kesirim.
- *Bir bütünün 8 eş parçaya ayrılmış hâli paydamdır.
- *Payımda ise 12 eş parça vardır.

Yukarıda kendini bize tanıtan kesirin modelle gösterimi aşağıdakilerden hangisidir?

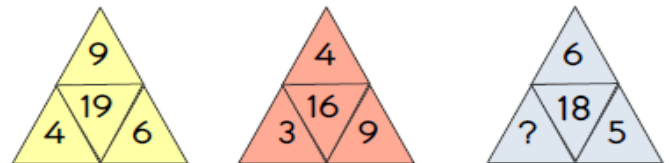


17) Abaküste gösterilen sayının okunuşu hangisidir?

- A) Kırk bin üç yüz on üç B) Otuz bir bin üç yüz dört
C) Yirmi bir bin altı yüz dört D) Üç bin yüz otuz dört

18) Aşağıdaki sayılardan hangisinin en yakın yüzlüğü 5300 değildir?

- A) 5280 B) 5345 C) 5250 D) 5351



19) Yukarıdaki örüntülerin kuralları aynı olduğuna göre soru işareti yerine gelmesi gereken sayı kaçtır?

- A) 7 B) 9 C) 8 D) 10

20) 202 008" doğal sayısının çözümlenmiş şekli aşağıdakilerden hangisidir?

- A) 2 on binlik + 2 onluk + 8 birlik
B) 2 on binlik + 2 yüzlük + 8 birlik
C) 2 yüz binlik + 2 yüzlük + 8 onluk
D) 2 yüz binlik + 2 binlik + 8 birlik

1) “Çıkmak” sözcüğü aşağıdaki cümlelerin hangisinde “bulunduğu yeri bırakıp başka yere geçmek, taşınmak” anlamında kullanılmıştır?

- A) Bu işten en kârlı çıkan sen oldun.
B) Dik merdivenli yokuşu güçlükle çıktık.
C) Yazarın gençler için yazdığı kitap çıktı.
D) Köyden çıkıp kasabaya yerleşmeye karar verdik.

2) Aşağıdaki cümlelerin hangisinde zıt anlamlı kelimeler bir arada kullanılmıştır?

- A) Eve gelir gelmez ödevlerini yapmaya başladı.
B) Derse geç geldiği için öğretmeninden özür diledi.
C) İnsanların güvenini kazanmak istiyorsan dürüst olmalısın.
D) Geç başlamasına rağmen sınavı arkadaşlarından erken bitirdi.

3) Aşağıdaki cümlelerin hangisinde “de” bağlaç olarak kullanılmıştır?

- A) Bahçeye ağaç dikmek için bir de kürek gerekli.
B) Köyün girişinde büyük bir bayrak asılıydı.
C) Tatilde gittiği yerleri arkadaşlarına anlatıyordu.
D) İzmir’de havalar ısınmaya başladı.

1. Leyla köpeği barınağa teslim etti.
2. Köpek birkaç gün sonra iyileşti.
3. Leyla sokakta ayağı incinmiş bir köpek gördü.
4. Dedesiyle beraber köpeği veterinerine götürdüler.
5. Tedavinin ardından onu evin bahçesinde misafir ettiler.

4) Numaralanmış cümlelerle anlamlı bir metin oluşturulduğunda sıralama aşağıdakilerden hangisi olur?

- A) 1-2-5-3-4 B) 1-4-5-2-1 C) 3-4-5-2-1 D) 3-5-4-2-1

“Film() tiyatro ve müzikal izlemeyi seviyorum() Sen hangisini seversin()”

5) Yukarıdaki cümlelerde yay ayraçla () belirtilen yerlere sırasıyla hangi noktalama işaretleri getirilmelidir?

- A) (;) (!) (?) C) (,) (.) (?)
B) (.) (,) (!) D) (,) (:) (?)

6) Aşağıdaki ifadelerden hangisinin sonunda ünlem işareti kullanılmaz?

- A) Seni bekliyordum B) Hey, buraya gel
C) Ey Türk Gençliği D) Dikkat et, düşeceksin

7) Aşağıdaki cümlelerin hangisinden virgül çıkarılırsa cümlenin anlamı değişir?

- A) O, çok neşelidir. B) O, adamı yakalayan kişidir.
C) O, ne kadar da sevecen. D) O, beni çok sever.

8) Hangi cümlelerin sonundaki noktalama işareti doğru kullanılmıştır?

- A) Eyvah, okula geç kaldık?
B) Nasıl geleceğimi bilmiyorum?
C) Ne kadar şanslı olduğumu bilemezsin.
D) Kaç bardak su içersin günde.

9) “Bakmak” sözcüğü aşağıdaki cümlelerin hangisinde “koruyup kollamak, gözetmek” anlamında kullanılmıştır?

- A) Karşısındakine şöyle bir baktı ama onu tanıyamadı.
B) Giden arabaların arkasından uzun uzun bakıyordu.
C) Olup bitenlere sadece bakmakla yetiniyordu.
D) Teyzesinin küçük çocuklarına o bakıyordu.

10) Aşağıdaki cümlelerin hangisinde sebep-sonuç ilişkisi vardır?

- A) Bu akşamki işim erken biterse size uğramaya çalışacağım.
B) Hey gidi günler! Zaman nasıl da su gibi akıp geçiyor.
C) Bir karar verdi mi hiçbir güç onu kararından vazgeçiremez.
D) Bütün kitaplarını çantasına koyduğu için çantasını taşıyamıyordu.

11) Aşağıdaki cümlelerin hangisinde karşılaştırma yapılmıştır?

- A) Çocuklar bahçede karşılıklı saz çalıyordu.
B) Et ve tırnak gibiydiler, hiç ayrılmıyorlardı.
C) Bütün olup bitenlerden haberi bile olmadı.
D) Mahsulün bu yıl daha iyi olduğunu söyledi.

12) Aşağıda harfleri karışık olarak verilen kelimeleri bulunuz.

| | | |
|-------------|---|-------|
| K I L A S | → | |
| T I N A Y | → | |
| İ S B A T | → | |
| E Y B İ R | → | |
| N I K A T | → | |
| P A L K | → | |
| A K R İ F | → | |
| K U L O | → | |
| H İ R E N | → | |
| T R O K D O | → | |

13) Aşağıdaki cümlelerin hangisinde "ki"nin yazımıyla ilgili bir yanlışlık yapılmıştır?

- A) Bu etek benimkine çok benziyor.
- B) Duydum ki unutmuşsun gözlerimin rengini.
- C) Arkadaşlarımla İzmir'deki çarşıları gezdik.
- D) Unutmaki okulda kurallara uymak önemlidir.

14) Aşağıdaki cümlelerin hangisinde "doğru" sözcüğü mecaz anlamda kullanılmıştır?

- A) Çok doğru biridir, yanlış işlerden uzak durur.
- B) İpek, iki yanı ağaçlarla çevrili yoldan okula doğru yürüyordu.
- C) Okul takımına seçilmediğini şimdiden söylemek daha doğru olur.
- D) Öğretmen, defterimize cetvel kullanarak doğru çizmemizi istemişti.

"Ceren, geçen hafta arkadaşlarıyla Ankara'ya Anıtkabir'i ziyarete gitti."

15) Cümlesinde aşağıdaki sorulardan hangisinin cevabı yoktur?

- A) Kim? B) Nerede? C) Nereye? D) Ne zaman?

Tarık bir yıldır düzenli olarak ders çalışmaya başlamıştı. Çok da başarılı olmuştu. Emekleri boşa gitmemişti. Bu yüzden güzel bir tatili hak etmişti doğrusu. Okul, ödül olarak onu Antalya'daki gençlik kampına gönderecekti. Bu habere çok sevinen Tarık, kampa bir an önce gitmek için can atıyordu.

16) Yukarıdaki metinde geçen "can atmak" deyiminin anlamı aşağıdakilerin hangisinde verilmiştir?

- A) Bir olayın hemen gerçekleşmesini çok istemek
- B) Sevinmek, sevindiği her hâlden belli olmak
- C) Bir işe, bir olaya, bir kimseye önem vermek
- D) Neşeli olmak, neşesini hareketleri ile belli etmek

17) Aşağıdaki cümlelerin hangisinde ünlem işareti yanlış kullanılmıştır?

- A) Hey! Beni de bekleyin.
- B) Eyvah, yemek yandı!
- C) Ay! Ne yapacağız şimdi?
- D) Affedersiniz, bakar mısınız!

18) "Açık söylemekten kaçındığı bir sorunu sonunda açıklamak" anlamında kullanılan deyim hangisidir?

- A) Baklayı ağzından çıkarmak B) Yaka silkmek
- C) Burnundan solumak D) Dilinde tüy bitmek

19) Aşağıdaki öğrencilerden hangisi deyim ile açıklamasını birlikte kullanmamıştır?

- A) Emir: Çarşı çok kalabalıktı, iğne atsan yere düşmez.

- B) Öykü: Sinemaya gidelim diye çok ısrar etti, başımın etini yedi.
- C) Ahmet: İsteddiği oyuncak alınınca çok sevindi, ağzı kulaklarına vardı.
- D) Çağan: Kardeşim göz açıp kapayıncaya kadar bütün kitabı bitirmiş.

20) Aşağıdaki cümlelerin hangisinde karşılaştırma anlamı vardır?

- A) Hasta olduğum için arkadaşşıma gidemedim.
- B) Tuna'nın köpeği pamuk gibi bembeyazdır.
- C) İnsanlar, boş zamanlarında en çok televizyon izliyormuş.
- D) Aşçı yorgun olduğundan yemek yapamamış.

21) "Kırmak" sözcüğü aşağıdaki cümlelerin hangisinde gerçek anlamda kullanılmıştır?

- A) Söylediklerine çok kırıldım.
- B) Arkadaşım sürekli kalbimi kırıyor.
- C) Anlattığı fıkralarla hepimizi kırdı geçirdi.
- D) Bu dal pek sağlam değil, kırılmak üzere.

22) Aşağıdaki öğrencilerden hangisinin cümlesinde mecaz anlamı bir sözcük yoktur?

Yardıma muhtaç kişilere hep kol kanat gerer. En önemli erdemlerden biri de dürüst olmaktır. Bayram geleneklerimizi, çocuklarımıza aşılamalıyız. Zamanla insan ilişkileri de tamir gerektirebilir.

Yaşlı teyze, doktora sordu()

– Kontrolüm ne zaman()

Doktor şöyle dedi()

– Yarın sabah saat yedide()

23) Bu parçada yay ayraçlarla () belirtilen yerlere, aşağıdakilerin hangisinde verilen noktalama işaretleri sırasıyla getirilmelidir?

- A) (–) (?) (!) (,) B) (–) (:) (–) (.)
- C) (:) (?) (:) (.) D) (:) (.) (–) (!)

24) Aşağıdaki cümlelerde geçen pekiştirmeli kelimelerden hangisi farklı şekilde oluşturulmuştur?


- A) Yaşlı adam, bu dünyada yapayalnız kalmıştı.
- B) Minik kız kapkara gözleriyle bize bakıyordu.
- C) Hırsızlar güpegündüz soygun yapmaya kalkışmışlar.
- D) Polisler şüpheli evi çepeçevre sarmışlar.

25) Aşağıdaki cümlelerin hangisinde özel ad yoktur?

- A) Çankırı'ya gidip Ilgaz Dağı'nı gezmemek olmaz.
- B) Sarıkaya Belediyesi yeni araçlar aldı.
- C) Çocukların çoğu kabakulak olmuştu.
- D) Caner'i annesi çok özlemişti.

29 OCAK CUMARTESİ GÜNÜ EV ÖDEVİ

Aşağıda verilen anahtar kelimelerle bir hikaye yazınız. Hikâyenizde kurallı ve anlamlı cümleler kurmaya özen gösteriniz. Yazılarınızda noktalama işaretleri kullanınız.



top

oyun

sınıf

salıncak

otobüs

bisiklet

mangal

ip

polis


Aşağıdaki su dokuyu çözelim

| | | | | | | | | |
|---|---|---|--|---|---|---|---|--|
| 1 | | | | | | | | |
| | 2 | | | 6 | 7 | 8 | 9 | |
| 3 | | | | 4 | | | | |
| | 4 | | | 3 | | | | |
| | | | | 2 | 1 | 6 | 7 | |
| | 6 | | | | | | 8 | |
| | | 7 | | | | | 4 | |
| | 8 | | | 9 | 3 | 7 | 2 | |
| | | 9 | | | | | | |

Aşağıda verilen resfebelerin cevaplarını yazınız.

ANLATILANI BUL BAKALIM

B10 





.....

Ç  **K**



.....

40 

Çi   **A**



.....